

# NÚMEROS EN EL BARRIO

PÁGINAS  
15 Y 16

## 1. OBSERVÁ LA IMAGEN Y MARCÁ.



► ¿CUÁL ES LA DIRECCIÓN DE LA ESCUELA?

---

► ¿A QUÉ NÚMERO DE TELÉFONO HAY QUE LLAMAR PARA HACER UN PEDIDO EN LA VERDULERÍA?

---

## 2. COMPLETA LOS CUADROS CON NÚMEROS DE TU BARRIO.

PRECIOS
_____
_____

COLECTIVOS
_____
_____

PATENTES
_____
_____

NÚMERO DE DIRECCIÓN
_____
_____



# CALENDARIO ANUAL

3. **MIRÁ** EL VIEJO CALENDARIO ANUAL QUE ENCONTRÓ NUMIX Y **RESPONDÉ**:

ENERO							FEBRERO							MARZO							ABRIL						
D	L	M	M	J	V	S	D	L	M	M	J	V	S	D	L	M	M	J	V	S	D	L	M	M	J	V	S
	1	2	3	4	5	6					1	2	3						1	2		1	2	3	4	5	6
7	8	9	10	11	12	13	4	5	6	7	8	9	10	3	4	5	6	7	8	9	7	8	9	10	11	12	13
14	15	16	17	18	19	20	11	12	13	14	15	16	17	10	11	12	13	14	15	16	14	15	16	17	18	19	20
21	22	23	24	25	26	27	18	19	20	21	22	23	24	17	18	19	20	21	22	23	21	22	23	24	25	26	27
28	29	30	31				25	26	27	28	29			24	25	26	27	28	29	30	28	29	30				
														31													

MAYO							JUNIO							JULIO							AGOSTO						
D	L	M	M	J	V	S	D	L	M	M	J	V	S	D	L	M	M	J	V	S	D	L	M	M	J	V	S
				1	2	3	2	3	4	5	6	7	8	1	2	3	4	5	6					1	2	3	
5	6	7	8	9	10	11	9	10	11	12	13	14	15	7	8	9	10	11	12	13	4	5	6	7	8	9	10
12	13	14	15	16	17	18	16	17	18	19	20	21	22	14	15	16	17	18	19	20	11	12	13	14	15	16	17
19	20	21	22	23	24	25	23	24	25	26	27	28	29	21	22	23	24	25	26	27	18	19	20	21	22	23	24
26	27	28	29	30	31		30	31						28	29	30	31				25	26	27	28	29	30	31

SEPTIEMBRE							OCTUBRE							NOVIEMBRE							DICIEMBRE						
D	L	M	M	J	V	S	D	L	M	M	J	V	S	D	L	M	M	J	V	S	D	L	M	M	J	V	S
1	2	3	4	5	6	7			1	2	3	4	5						1	2	1	2	3	4	5	6	7
8	9	10	11	12	13	14	6	7	8	9	10	11	12	3	4	5	6	7	8	9	8	9	10	11	12	13	14
15	16	17	18	19	20	21	13	14	15	16	17	18	19	10	11	12	13	14	15	16	15	16	17	18	19	20	21
22	23	24	25	26	27	28	20	21	22	23	24	25	26	17	18	19	20	21	22	23	22	23	24	25	26	27	28
29	30						27	28	29	30	31			24	25	26	27	28	29	30	29	30	31				

► ¿QUÉ MESES COMENZARON UN DÍA LUNES?

Three empty rounded rectangular boxes for writing the answer.

► ¿CUÁL ES EL MES DE TU CUMPLAÑOS?, ¿QUÉ MES ES EL ANTERIOR?

A horizontal line for writing the answer.

4. CON AYUDA DE UN ADULTO, **COMPLETÁ** EN UN CALENDARIO ANUAL, LOS CUMPLEAÑOS DE TU FAMILIA.

► ¿EN QUÉ MESES HAY CUMPLEAÑOS? \_\_\_\_\_




► ¿CUÁNTO FALTA PARA EL PRÓXIMO CUMPLEAÑOS? \_\_\_\_\_

A horizontal line for writing the answer.




# LOTERIA PARA PINTAR

5. ESTE ES EL ÚLTIMO TURNO DE ZYRA. ELLA DICE QUE PUEDE GANAR CON DOS NÚMEROS DEL DADO. **ANOTÁ** CUÁLES SON.



6. EN LA LOTERÍA DE DOBLES, NUMIX SACÓ  . **AYUDALO** A PINTAR SU TABLERO.





# LA TIRA DE NÚMEROS

7. A LA TIRA DEL AULA SE LE VOLARON LOS NÚMEROS VEINTIUNO Y DIECIOCHO. **PINTÁ** CUALES SON LOS QUE FALTAN.

12	18	20	8	2	21
----	----	----	---	---	----

8. EN ESTE CUADRO FALTAN ALGUNOS NÚMEROS. **COMPLETALO**.

10	11	12	13		15			18	
	21		23	24	25		27		29

9. **COMPLETÁ.**

▶ ¿QUÉ NÚMERO ESTÁ ENTRE EL VEINTIDÓS Y EL VEINTICUATRO?

▶ **ESCRIBÍ** UN NÚMERO MAYOR AL 29

▶ ¿ES MAYOR EL 12 O EL 21?

